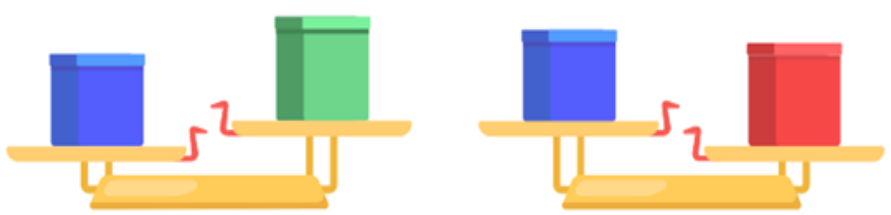



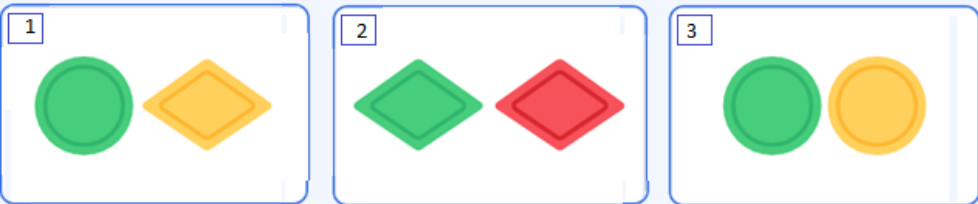







Дистанционный турнир "Математический Олимп" среди 2-4 кл (параллель 2 класс)

№	Задание	Ответ	Баллы Мах.
1	У бабушки две внучки: Юля и маленькая Катя. Бабушка купила им 14 конфет и сказала Юле, чтобы она дала Кате на 2 конфеты больше, чем взяла себе. Как Юля должна разделить конфеты? Запиши только число	Юле - <u>6</u> Кате - <u>8</u>	2 балла
2	Полина живет выше Марины, но ниже Карины, а Арина живет ниже Марины. На каком этаже четырёхэтажного дома живёт каждая из девочек? Запиши имена девочек	1 этаж- Арина 2 этаж- Марина 3 этаж- Полина 4 этаж- Карина	2 балла
3	<p>Определите, какая коробка самая тяжёлая.</p>  <p>Запиши цвет коробки</p>	красная	1 балл
4	<p>Сложите из двух картинок одну</p>  	3	1 балл
5	<p>Продолжите ряд.</p>  	2	2 балла
6	Сумма двух чисел равна четырнадцати, а их разность равна четырём. Найти эти числа и запиши их через запятую.	5 и 9	2 балла

7	<p>Определи, какая цифра спряталась за каждым автомобилем. В ответ запиши число, которое надо поставить вместо вопросительного знака.</p> <p>        </p>	7	3 балла
8	<p>Сколько треугольников на картинке?</p> 	7	2 балла
9	<p>Сколько кубиков использовали для создания данной фигуры?</p> 	18	2 балла
10	<p>В корзине с фруктами лежит 4 яблока, столько же груш, а мандаринов столько, сколько яблок и груш вместе. Сколько всего фруктов в корзине?</p>	16	1 балл